

Tests psychotechniques

EPREUVES VERBALES

PREMIERE EPREUVE

- 1) Il est habitué à juger de la valeur **intrinsèque** des hommes
 - A) qui tient à leur nature propre
 - B) qui peut être acquise
 - C) qui est cachées

- 2) Avec ses propos **fallacieux** il arrivait à convaincre n'importe qui
 - A) qui est audacieux
 - B) qui est juste
 - C) qui est trompeur

- 3) **Subrepticement** il réussit à ouvrir le coffre
 - A) avec beaucoup de facilité
 - B) rapidement
 - C) en se dissimulant

- 4) Je vous conseille d'étudier le problème avec **pondération**
 - A) longuement
 - B) de manière irréfléchie
 - C) en pesant le pour et le contre

- 5) En hiver, il **abhorr** ces forêts de pins sombres
 - A) il aimait avec passion
 - B) il exécrait
 - C) il taillait

DEUXIEME EPREUVE

Que signifient les expressions suivantes :

- 6) « **bayer aux corneilles** »
 - A) être fatigué
 - B) regarder s'envoler les oiseaux
 - C) perdre son temps en regardant en l'air niaisement

- 7) « **filer un mauvais coton** »
 - A) mener un vie agitée
 - B) voir sa situation se dégrader dangereusement
 - C) ne pas être dans son état normal

- 8) « **faire une tête de six pieds de long** »
 - A) être têtu
 - B) montrer un visage maussade
 - C) inspirer un sentiment d'horreur

- 9) « **ne pas avoir froid aux yeux** »
 - A) avoir du mal à admettre l'évidence
 - B) conserver son attention éveillée
 - C) être audacieux

10) « tenir le haut du pavé »

- A) jouir d'une situation sociale enviable
- B) être très orgueilleux
- C) être condamné, exclu

11) « faire long feu »

- A) être persévérant
- B) résister aux fortes chaleurs
- C) ne pas produire l'effet escompté

12) « s'habiller de pied en cap »

- A) s'habiller n'importe comment
- B) s'habiller des pieds à la tête
- C) s'habiller avec distinction

TROISIEME EPREUVE

Quel est l'homonyme qui convient ?

13) Pendant l'office, la chorale se tenait dans le **A) cœur**
B) chœur

14) L'arme de prédilection du terrorisme est le **A) plastic**
B) plastique

15) L'artiste peintre forma le **A) dessin** de plagier cette oeuvre
B) dessein

16) Pourvu que le seigneur **A) exhausse** mes prières
B) exauce

17) Les impôts sont les **A) tribus** du contribuable
B) tributs

QUATRIEME EPREUVE

Composez une anagramme avec les mots suivants :

- 18) CAROTENE
- 19) BUTTIONS
- 20) BROUTONS
- 21) ECORCHES
- 22) REBIFFA
- 23) BLAGUER

CINQUIEME EPREUVE

*Voici une liste de mots. Chaque mot est suivi de quatre autres mots. Vous devez choisir parmi ces quatre mots l'**antonyme** du mot souligné.*

24) docilité

- A) soumission
- B) rébellion
- C) instruction

25) doctoral

- A) humble
- B) flexible
- C) solennel

26) dogmatique

- A) prétentieux
- B) tolérant
- C) systématique

27) doit (un)

- A) crédit
- B) passif
- C) fraude

28) dolent

- A) plaintif
- B) habile
- C) joyeux

29) dommage

- A) préjudice
- B) bénéfice
- C) détermination

SIXIEME EPREUVE

Voici une liste de mots. Chaque mot est suivi de quatre autres mots. Vous devez choisir parmi ces quatre mots le **synonyme** du mot souligné.

30) fabulateur

- A) prodigieux
- B) mythomane
- C) désolé

31) facétieux

- A) réjouissant
- B) sérieux
- C) contrarié

32) façonner

- A) ménager
- B) irriter
- C) modeler

33) factieux

- A) ambitieux
- B) élaboré
- C) séditieux

34) factum

- A) pamphlet
- B) intendant
- C) complot

35) faisandé

- A) pur
- B) malsain
- C) impossible

SEPTIEME EPREUVE

Retrouvez l'**intrus**

- | | | | | | |
|-----|---------------------|-----------------------|----------------------|----------------------|---------------------------|
| 36) | Annales A | Archives B | Thèse C | Dossier D | Documentation E |
| 37) | Univers A | Croyance B | Sphère C | Champ D | Cercle E |
| 38) | Dam A | Détriment B | Atteinte C | Ravage D | Soumission E |
| 39) | Fabuler A | Facétie B | Faciale C | Facilité D | Faconde E |

HUITIEME EPREUVE

40)est à arbre ce que pomme est à

- | | |
|-------------|---------|
| A) Prune | poire |
| B) Cerisier | cerise |
| C) Pommier | prunier |
| D) Fruit | pommier |

41)est à lit ce que cuisine est à

- | | |
|--------------|------------|
| A) Baignoire | évier |
| B) Chambre | cuisinière |
| C) Outil | marteau |
| D) Canapé | bureau |

42)est à laid ce que synonyme est à

- | | |
|-----------|----------|
| A) Mot | adjectif |
| B) Verbe | nom |
| C) Beau | antonyme |
| D) Vilain | bureau |

43)est à lecture ce que partition est à

- | | |
|-------------|---------|
| A) Œil | oreille |
| B) Ligne | note |
| C) Histoire | chant |
| D) Livre | musique |

44)est à vache ce que fourrure est à

- | | |
|----------|---------|
| A) Herbe | rongeur |
| B) Veau | phoque |
| C) Cuir | vison |
| D) Corne | griffe |

45)est à cube ce que cercle est à

- | | |
|---------------|--------|
| A) Centilitre | rayon |
| B) Glaçon | bridge |
| C) Arête | figure |
| D) Carré | sphère |

EPREUVES NUMERIQUES

PREMIERE EPREUVE

46) Quelle est la valeur exacte de : $\sqrt{64}$?

- A) $2\sqrt{4}$
- B) $2\sqrt{8}$
- C) $4\sqrt{4}$
- D) $8\sqrt{2}$
- E) $2\sqrt{6}$

47) Quelle est la racine carré de 28561 ?

- A) 168
- B) 169
- C) 170
- D) 171
- E) 172

48) $739 - 658 + 27 =$

- A) 116
- B) 204
- C) 108
- D) 110
- E) 114

49) $44,8 \times 7 =$

- A) 286,6
- B) 302,2
- C) 303,6
- D) 313,6
- E) 292

50) 35% de 180 plus 25% de 40 =

- A) 65
- B) 73
- C) 58
- D) 82
- E) 83

51) La racine carré de 9604 =

- A) 98
- B) 93
- C) 68
- D) 78
- E) 57

52) $5^2 + 6^3 + 2^4 =$

- A) 78
- B) 167
- C) 257
- D) 2389
- E) 12342

53) Des animateurs organisent une randonnée. Il y a 19 garçons et 21 filles. Quel est le pourcentage de garçons ?

54) La remise sur le prix d'un objet est de 20%. Le prix initial est de 200€. Quelle est la somme déboursée ?

55) Le prix payé pour un objet est de 158€. La remise annoncée est de 25%. Quel était le prix initial ?

56) Soazic est à gauche de Véronique et à droite de Gaëlle. Qui est au milieu ?

- A) Soazic
- B) Véronique
- C) Gaëlle

57) Le cheval de Pascal court moins vite que celui d'Alain, et celui de Yannick court plus vite que celui d'Alain. Quel cheval gagnera la course ?

- A) Celui de Pascal
- B) Celui de Alain
- C) Celui de Yannick

58) Le plat bleu peut être placé dans le plat vert, le plat vert ne peut pas être placé dans le plat blanc. Quelle est le plus grand des plats ?

- A) le bleu
- B) le vert
- C) le blanc

DEUXIEME EPREUVE

Quel est le nombre manquant ?

59) 21 – 23 – 25 – 27 - ? – 31

60) 5 – 7 – 12 – 19 – 31 – 50 - ?

61) 31 – 28 – 33 – 26 – 35 – 24 – 37 - ?

62) 3 – 6 – 18 – 72 – ?

63) 2 – 5 – 9 – 14 – 20 – 27 - ?

64) 31 – 33 – 38 – 35 – 35 – 32 – 37 - ?

65) 5 – 9 – 15 – 26 – 47 - ?

66) 3 – 7 – 8 – 12 – 13 – 17 – 19 - ?

TROISIEME EPREUVE

Observez bien le carré ci-dessous :

| |
|------------------|
| 7689502037586900 |
| 2009838477556666 |
| 6266278849950686 |
| 3479599607087612 |
| 5354678586969728 |
| 8949585764666271 |

67) Combien de fois repérez –vous le chiffre 6 ?

68) Combien de fois repérez-vous le chiffre 3 ?

69) Combien de fois peut-on obtenir le nombre 69 ?

QUATRIEME EPREUVE

| | A | B | A x B |
|-----|---------|--------|-------|
| 70) | (-8) | (+5) | |
| 71) | (-14,8) | (-7,3) | |
| 72) | (+6) | (-4) | |
| 73) | (+4) | (+22) | |

CINQUIEME EPREUVE

74) Sachant que Pierre roule pendant 1h10 à 110 km/h, quelle sera, approximativement, la distance qu'il aura parcourue ?

75) Sachant que Sophie, pour descendre dans le sud de la France, parcourt 820 km et qu'elle roule sur autoroute à la vitesse moyenne de 120 km/h, quelle sera la durée de son trajet ?

76) Georges possède une piscine qui consomme 320 860 m³ d'eau par an. Sachant que la piscine ne fonctionne que 200 jours dans l'année, combien de m³ d'eau par heure sont-ils consommés ?

77) Je lance 3 dés numérotés de 1 à 6. Combien de chances ai-je d'obtenir trois 4 du premier jet ?

- A) 1/148
- B) 1/400
- C) 1/216
- D) 1/ 6 x 3
- E) 1/36

78) Un cycliste roule sur un circuit de 200 m de longueur. En admettant qu'il roule à 38km/h de façon constante, quel temps mettra-t-il pour faire 8 tour de piste ?

- F) 1mn 60s
- G) 2mn 50s
- H) 2mn 15s
- I) 2mn 30s
- J) 1mn 50s

SIXIEME EPREUVE

Vous avez une suite de 7 éléments, soit :



Cette succession constitue la progression logique de base. Vous devez découvrir le cheminement logique et chercher les éléments manquants indiqués par des points d'interrogation

79)



Réponse :

- A)
- B)
- C)

80)



Réponse :

- A)
- B)
- C)

81)




Réponse :

- A)
- B)
- C)

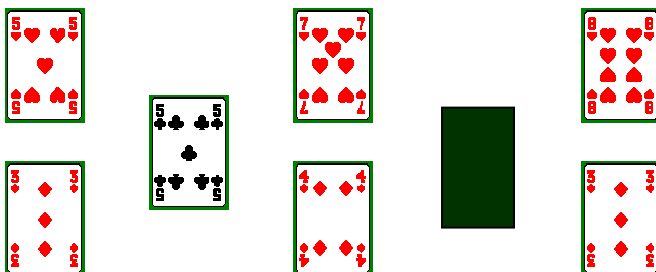
SEPTIEME EPREUVE

Retrouvez la carte manquante


82)



84)



85)



HUITIEME EPREUVE

Chaque nom correspond à un nombre. Lequel ?

86)

| | |
|--------------|----|
| POIRE | 5 |
| PAMPLEMOUSSE | 12 |
| BANANE | 6 |
| CLEMENTINE | ? |

- A) 8
- B) 10
- C) 11

87)

| | |
|---------|----|
| CHAT | 16 |
| RAT | 9 |
| COCHON | 36 |
| BALEINE | ? |

- A) 7
- B) 28
- C) 49

88)

| | |
|-------------|----|
| PALOMBE | 16 |
| COLOMBE | 3 |
| MOINEAU | 13 |
| TOURTERELLE | ? |

- A) 20
- B) 18
- C) 21